

Nom : .....


Prénom : .....

Classe : .....


**Exercice 1 :** Retrouve la signification en mathématiques. Tu peux utiliser un dictionnaire.

En Français	Opération	Résultat
La moitié de dix.	$10 : 2 =$	5
Le tiers de dix .		
Dix plus cinq.		
Dix moins cinq .		
Dix fois cinq.		
La somme de dix et de cinq.		
La différence de dix et de cinq.		
Le produit de dix par quatre.		
Le quotient de dix par deux.		
Un quart d'heure.		
Un quart de 60 .		
Un huitième de 80.		
La moitié de vingt.		
Neuf moins un.		
10 minutes avant 13h20.		
5 minutes après 10h20.		
Cinquante-cinq moins onze.		

**Exercice 2 :** Relie les informations qui correspondent, attention 3 éléments ne doivent pas être reliés !




- A
- a



- Segment
- Droite
- Point
- Demi-droite

- (AB)
- [AB]
- AB
- [AB)

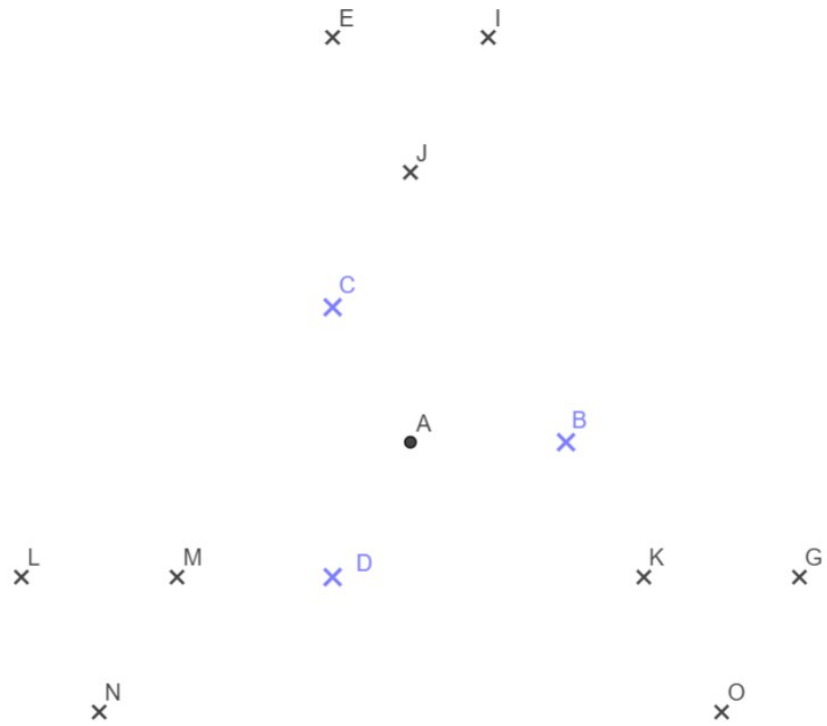


- A
- a
- Segment
- Droite
- Point
- Demi-droite

- (AB)
- [AB]
- AB
- [AB)

**Exercice :** Souvenir du Nord

---



**a/** Trace les segments  $[AC]$ ,  $[AD]$  et  $[AB]$ .

**b/** Trace les demi-droites  $[CN)$ ,  $[DG)$  et  $[BE)$

**c/** Trace les droites  $(NO)$ ,  $(GI)$  et  $(EL)$

**d/** Trace les segments  $[OK]$ ,  $[IJ]$ ,  $[LM]$