

Je fais le point

Nom Prénom Date

<http://laclasselleue.fr/>

Les mesures de longueurs



Exercice n° 1

Colorie les unités selon la légende.

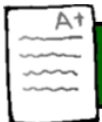
<u>la principale</u> <u>unité de mesure de longueurs</u>	<u>ses</u> <u>multiples</u>	<u>ses</u> <u>sous-multiples</u>
ROUGE	BLEU	JAUNE

Gare aux intrus !

minute
mètre
centimètre
décamètre
décimètre
hectomètre
kilogramme
kilomètre
litre
millimètre



Évaluation



Connaitre les unités de mesures de longueurs.

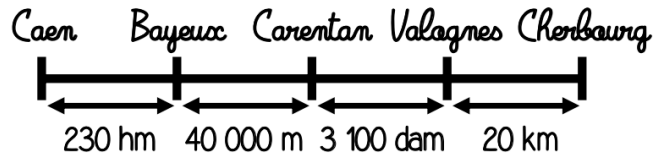


/7

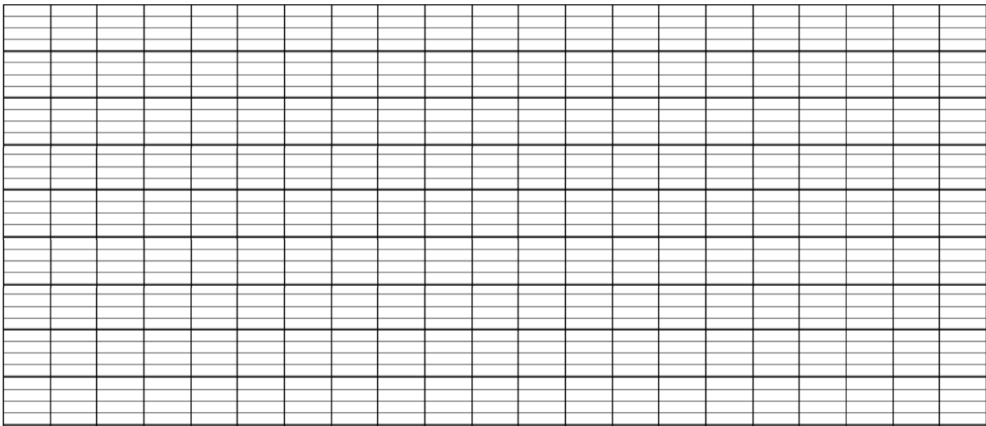
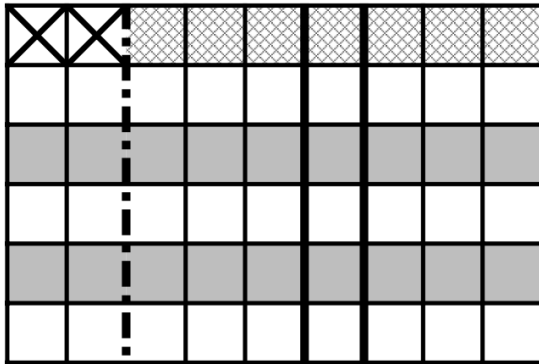


J'ai rédigé une phrase d'annonce.
 J'ai écrit mon calcul en ligne avant de le poser et de l'effectuer.
 J'ai rédigé une phrase-réponse correctement construite.

N°2



Manon habite à Caen. Elle part en vacances avec sa famille à Cherbourg en passant par Bayeux, Carentan et Valognes. Calcule la distance totale parcourue. Ecris ta réponse en m. puis en km.



J'ai rédigé une phrase d'annonce.
 J'ai écrit mon calcul en ligne avant de le poser et de l'effectuer.
 J'ai rédigé une phrase-réponse correctement construite.



Résoudre des problèmes impliquant des mesures de longueurs



/ 10

Évaluation