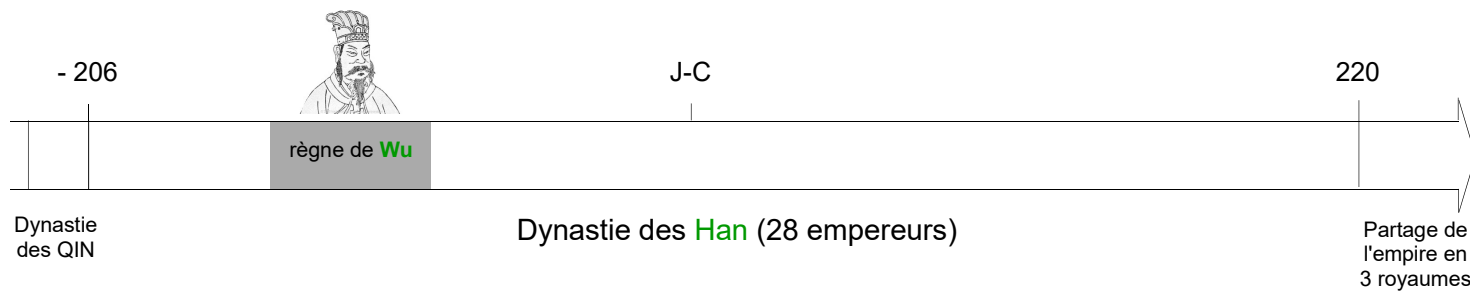


Voici le corrigé des exercices sur LA CHINE DES HAN (HISTOIRE)

1. Complète la frise à l'aide de la page 159 :



2. Combien d'années les empereurs de la dynastie des Han ont-ils régné ? Choisis la bonne opération :

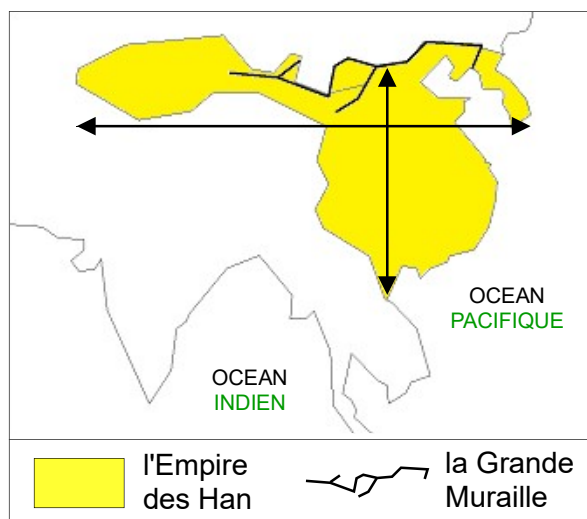
$220 - 206 = 14 \text{ ans}$

$206 + 220 = 426 \text{ ans}$

$206 \times 220 = 43\ 320 \text{ ans}$

3. Inscris le nom des 2 océans et colorie l'Empire des Han de la couleur de ton choix (aide-toi de la page 159 pour le coloriage).

Colorie la légende.



4. Mesure sur la carte la longueur des flèches :

$\longleftrightarrow = 6 \text{ cm}$

$\updownarrow = 3 \text{ cm}$

Sachant qu'1 cm représente 700 km, sur combien de kilomètres s'étend l'Empire des Han ?

- d'Est en Ouest : 4200 km - du Nord au Sud : 2100 km
 (6×700) (3×700)

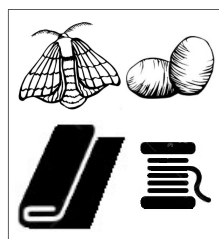
5. D'après la carte, qu'est-ce qui protège l'Empire d'invasions venant du Nord ?

L'Empire est protégé des envahisseurs venus du Nord par la Grande Muraille.

6. Aide-toi du document 1 p.162 pour identifier les inventions chinoises ci-dessous :



l'invention du papier



l'invention de la soie (fabriquée avec le cocon du ver à soie)



l'invention de la boussole

7. Quelle expression désigne les 7000 km de routes qui relient la Chine à la Méditerranée ? (p.159)

L'expression "route de la soie" désigne l'ensemble des routes qui relient la Chine à la Méditerranée.

8. Quels animaux sont utilisés pour le transport des marchandises ? (document 5 p.161) Les marchandises sont transportées par des caravanes (convois) de chameaux et de chevaux.

9. Quelles sont les marchandises exportées par la Chine ? (document 2 p.160) La Chine exporte de la soie, des objets de laque, du fer et des épices (gingembre, cannelle).