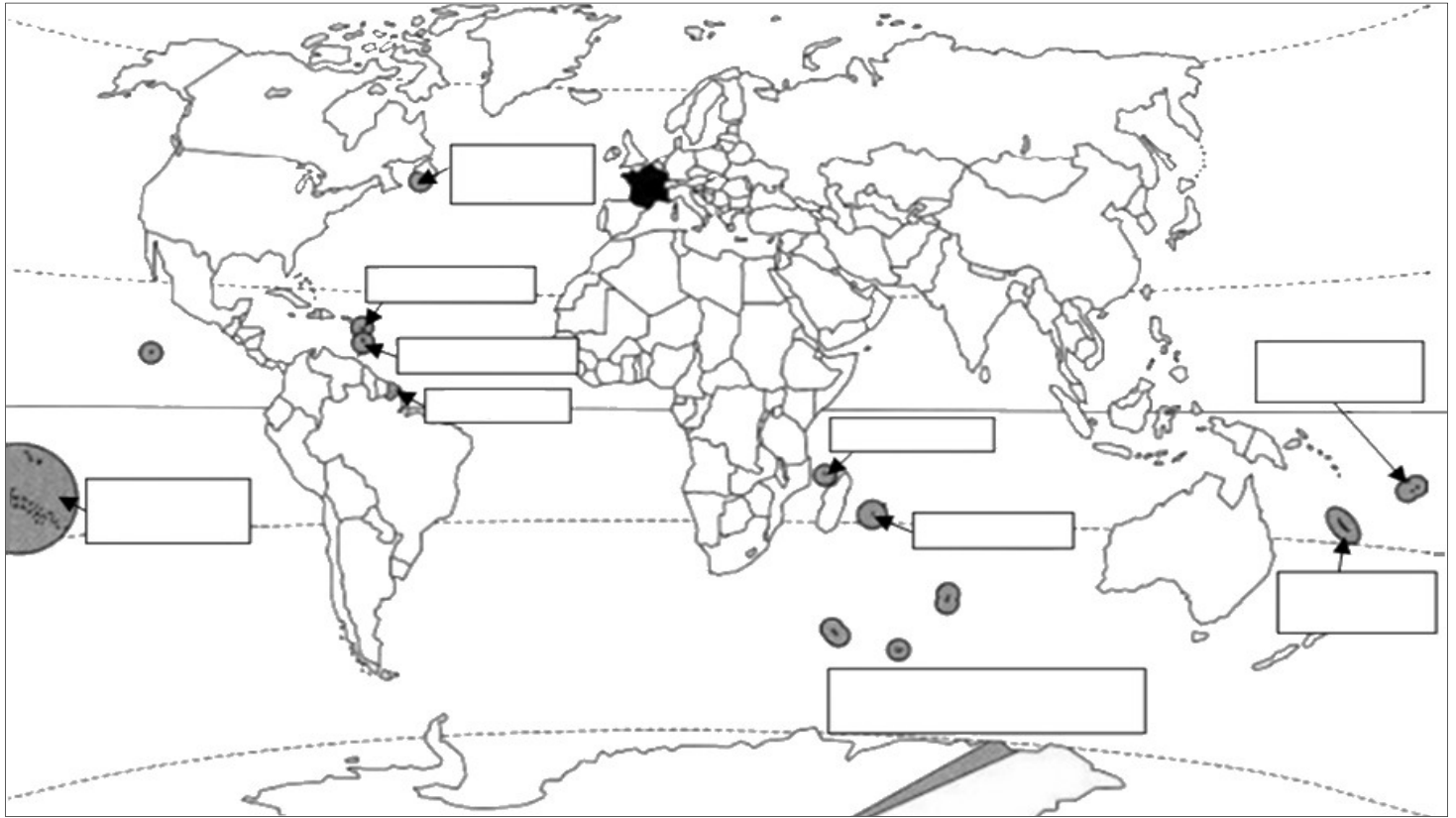


LES TERRITOIRES ULTRAMARINS

Quels sont-ils ?

1. A l'aide de la page 294, inscris le nom des territoires ultramarins dans les cases.

2. Colorie ces cases en respectant les indications de la légende.

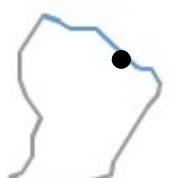
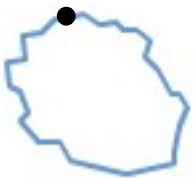


rouge DROM orange COM vert Autre statut

3. Relève dans les documents 2 et 4 p.297 les points communs à presque tous ces territoires :

- A l'exception de la Guyane et de la Terre Adélie, ce sont tous des
- A l'exception de St-Pierre-et-Miquelon et des TAAF, leur climat est
- Ils sont très de la Métropole :h d'avion pour la Guyane et h pour la Nouvelle-Calédonie.
- Leur principal partenaire commercial est
- Ils font peu de commerce avec leurs

4. Nomme ces DROM et inscris sur les croquis le nom de chaque capitale régionale :



.....

.....

.....

.....

.....