




# ROME : Sous l'Empire

## I - Qui gouverne Rome de - 27 à 476 ?

1. Complète le schéma à l'aide de ce texte :

En 27 avant J-C, quand Octave Auguste eut séduit les soldats par ses dons et le peuple par ses distributions de blé, il commença à attirer à lui l'autorité du Sénat et des magistrats. Seul détenteur des pouvoirs religieux, législatif, judiciaire et militaire, il dirigea l'Empire pendant 41 ans. Nul ne lui résistait car il avait apporté la paix et la sécurité. Chaque citoyen renonçant à l'égalité, attendait ses ordres.


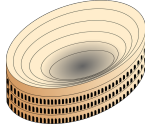
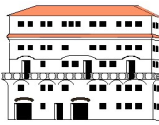



D'après Tacite, *Annales*.

régime politique :				
dates :	de -..... à 476			
	POUVOIR	POUVOIR	POUVOIR	POUVOIR
	il dirige l'armée	il rend la justice	il décide des lois	il est le chef de la religion
 				
Les ....., les ..... et les citoyens n'ont plus aucun pouvoir.				

2. Quel homme a fondé l'Empire en - 27 ? .....
3. Pourquoi les Romains le laissent-ils confisquer tous les pouvoirs ? .....

## II - Comment l'Empire se romanise-t-il ?

1. Voici des monuments de Rome. Complète le tableau à l'aide des documents 1 p.124 et 4 p.125 :

						
nom	temples				thermes	
fonction					prendre des bains et se détendre	

2. Quels sont les monuments que l'on retrouve dans la ville d'Arles située en Gaule ? (4 p.127)
3. D'après cet extrait de BD, comment les habitants de l'Empire (Gaulois, Ibères, Bretons...) copient-ils le mode de vie des Romains ?



4. D'après le vocabulaire p. 130, quel mot désigne ce phénomène ?