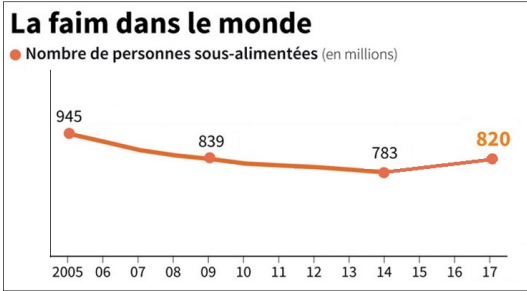


L'ALIMENTATION DANS LE MONDE (nouveau chapitre de GEOGRAPHIE)

I - Comment évolue la faim dans le monde ?



1. Complète ce texte à l'aide du graphique en courbes :

En 2005, le nombre de personnes qui ne mangeaient pas à leur faim était de En, ce nombre était de 820

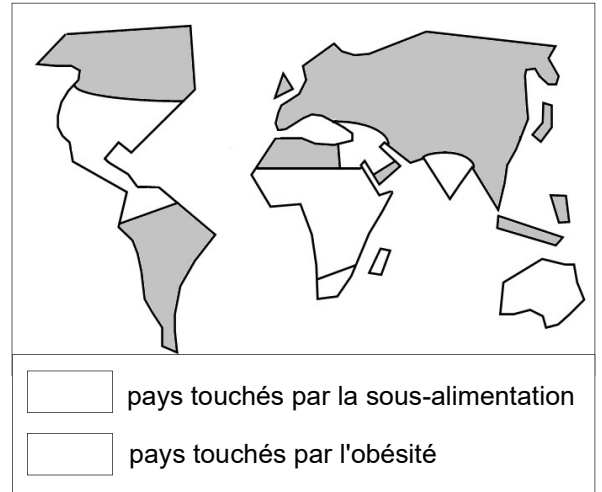
Le nombre de personnes souffrant d'insécurité alimentaire a donc Mais on observe une remontée des chiffres depuis

2. Colorie la carte : en jaune l'Afrique subsaharienne, l'Inde et Madagascar ; en rouge les Etats-Unis et le Nord de l'Amérique latine, l'Afrique du Sud, le Moyen-Orient et l'Australie. (Les zones grises ne doivent pas être coloriées).

3. Colorie la légende de la carte.

4. Que nous apprend cette carte ?

.....



II - Comment nourrit-on le monde ?

1. Qu'a-t-on fait pour augmenter les productions agricoles ? (documents 8 p.257, 6 p.256 et 3 p.261)

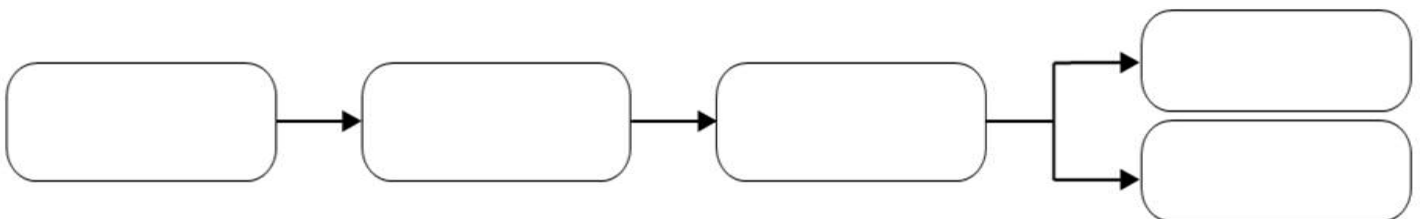
.....

2. D'après tes connaissances et le texte 9 p.257, ces pratiques agricoles sont-elles bonnes pour l'environnement ? Justifie ta réponse.

.....

3. Complète le schéma à l'aide des informations suivantes :

hausse de la production agricole - pression sur l'environnement - croissance de la population - recul de l'insécurité alimentaire - augmentation des besoins alimentaires



4. Quelles sont les pistes envisagées pour nourrir tout le monde sans nuire à l'environnement ? (scénario 1 et scénario 2 p.270) :

.....

